

Domácí nauka pro 3.ročník **LIST 14**


Vítám Vás na první "hodině" nového pololetí a děkuji Vám za trpělivost a pečlivou práci v prvním pololetí.



Dnes se budeme věnovat **INTERVALŮM**.

Interval udává o kolik je nějaký tón oproti jinému výš, nebo níž. Každý interval má svůj název, ty se musíme pečlivě naučit.


1 prima - vzdálenost mezi 1. a 1.
tónem stupnice
(tedy stejný tón)




2 sekunda - vzdálenost mezi 1. a 2.
tónem stupnice
(vedlejší tón)




3 tercie - vzdálenost mezi 1. a 3.
tónem stupnice




4 kvarta - vzdálenost mezi 1. a 4.
tónem stupnice




5 kvinta - vzdálenost mezi 1. a 5.
tónem stupnice



6 sexta - vzdálenost mezi 1. a 6.
tónem stupnice



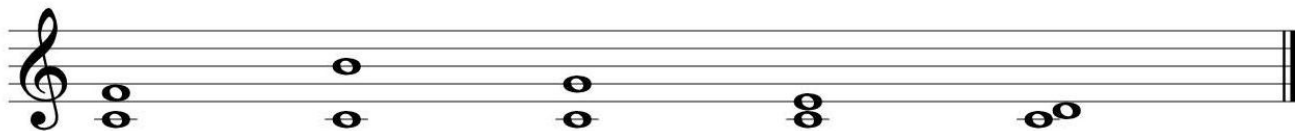
7 septima - vzdálenost mezi 1. a 7.
tónem stupnice



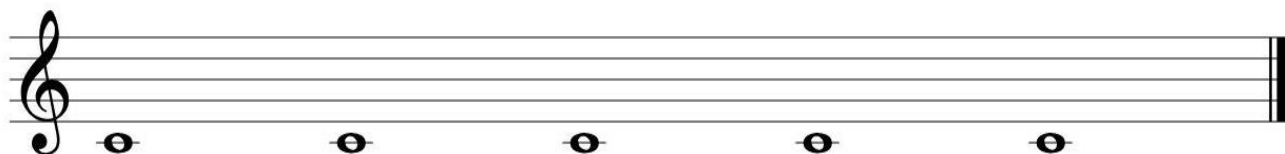
8 oktáva - vzdálenost mezi 1. a 8.
tónem stupnice



Nyní už můžete správně pojmenovat následující intervaly:



Také už dokážete zapsat intervaly v notách:



sekunda sexta kvinta oktáva tercie

- pokud si budete interval v osnově odpočítávat, nezapomeňte počítat i první tón - vytištěné c1
- noty v intervalu primy a sekundy se zapisují vedle sebe, ostatní se píší pod sebou

Jak Vám to šlo? Správné řešení najdete na webu školy příští týden.